


Name: _____

Datum: _____



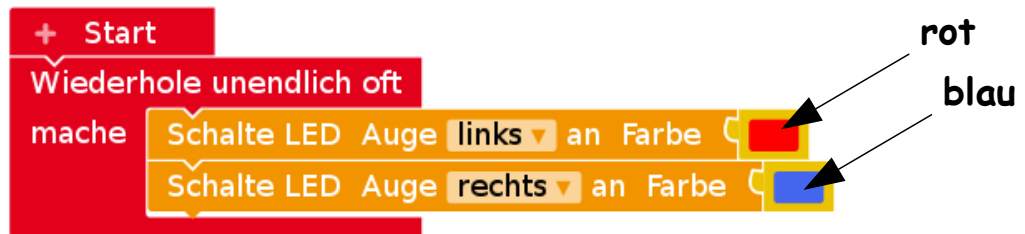
Lernkontrolle

Programmieren mit BOB3



1

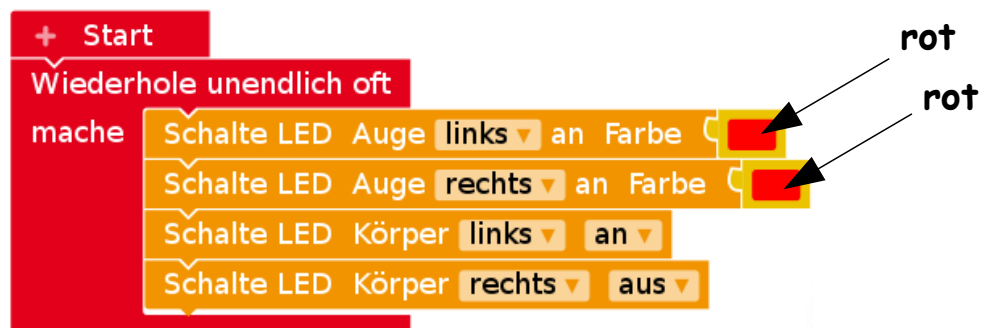
Was macht das folgende Programm?



- A: Es werden beide Augen rot eingeschaltet
- B: Es werden beide Augen ausgeschaltet
- C: Das linke Auge wird rot und das rechte Auge wird blau eingeschaltet

2

Wie viele LEDs leuchten?



- A: 3
- B: 4
- C: 2


Name: _____

Datum: _____



Lernkontrolle

Programmieren mit BOB3



3

Welches Programm erzeugt ein Blinklicht?

A:

```
+ Start
Wiederhole unendlich oft
  mache
    Schalte LED Auge links an Farbe rot
    Warte ms 500
    Schalte LED Auge links aus
    Warte ms 500
```

rot

B:

```
+ Start
Wiederhole unendlich oft
  mache
    Schalte LED Auge links an Farbe rot
    Warte ms 500
    Schalte LED Auge rechts aus
    Warte ms 500
```

rot

C:

```
+ Start
Wiederhole unendlich oft
  mache
    Schalte LED Auge links an Farbe rot
    Warte ms 500
    Schalte LED Auge rechts aus
```

rot


Name: _____

Datum: _____



Lernkontrolle

Programmieren mit BOB3



4

Bei welchem Programm blinkt das Auge am schnellsten?

A:

```
+ Start
Wiederhole unendlich oft
  mache
    Schalte LED Auge links an Farbe rot
    Warte ms 1000
    Schalte LED Auge links aus
    Warte ms 1000
```

B:

```
+ Start
Wiederhole unendlich oft
  mache
    Schalte LED Auge links an Farbe rot
    Warte ms 500
    Schalte LED Auge links aus
    Warte ms 500
```

C:


```
+ Start
Wiederhole unendlich oft
  mache
    Schalte LED Auge links an Farbe rot
    Warte ms 100
    Schalte LED Auge links aus
    Warte ms 100
```

Name: _____

Datum: _____



Lernkontrolle Programmieren mit BOB3



5

Beschreibe das folgende Programm - was macht der Bob?

