


Name: \_\_\_\_\_

Datum: \_\_\_\_\_



# Lernkontrolle

## Programmieren mit BOB3



1

Was macht das folgende Programm?

```
Start
wiederhole unendlich oft
  mache
    schalte LED Auge links an Farbe Lila
    schalte LED Auge rechts an Farbe Blau
```

- A: Es werden beide Augen lila eingeschaltet
- B: Es werden beide Augen ausgeschaltet
- C: Das linke Auge wird lila und das rechte Auge wird blau eingeschaltet

2

Wie viele LEDs leuchten?

```
Start
wiederhole unendlich oft
  mache
    schalte LED Auge links an Farbe Sonnengelb
    schalte LED Auge rechts an Farbe Sonnengelb
    schalte LED Körper links an
    schalte LED Körper rechts aus
```

- A: 3
- B: 4
- C: 2


Name: \_\_\_\_\_

Datum: \_\_\_\_\_



# Lernkontrolle

## Programmieren mit BOB3



**3**

Welches Programm erzeugt ein Blinklicht?

A:

```
Start
wiederhole unendlich oft
  mache
    schalte LED Auge links an Farbe Himmelblau
    warte ms 500
    schalte LED Auge links aus
    warte ms 500
```

B:

```
Start
wiederhole unendlich oft
  mache
    schalte LED Auge links an Farbe Himmelblau
    warte ms 500
    schalte LED Auge rechts aus
    warte ms 500
```

C:

```
Start
wiederhole unendlich oft
  mache
    schalte LED Auge links an Farbe Himmelblau
    warte ms 500
    schalte LED Auge rechts aus
```


Name: \_\_\_\_\_

Datum: \_\_\_\_\_



# Lernkontrolle

## Programmieren mit BOB3



**4**

Bei welchem Programm blinkt das Auge am schnellsten?

A:

```
Start
wiederhole unendlich oft
  mache
    schalte LED Auge links an Farbe Moosgrün
    warte ms 1000
    schalte LED Auge links aus
    warte ms 1000
```

B:

```
Start
wiederhole unendlich oft
  mache
    schalte LED Auge links an Farbe Moosgrün
    warte ms 500
    schalte LED Auge links aus
    warte ms 500
```

C:

```
Start
wiederhole unendlich oft
  mache
    schalte LED Auge links an Farbe Moosgrün
    warte ms 100
    schalte LED Auge links aus
    warte ms 100
```

